



Alumne:.....
Curs:.....

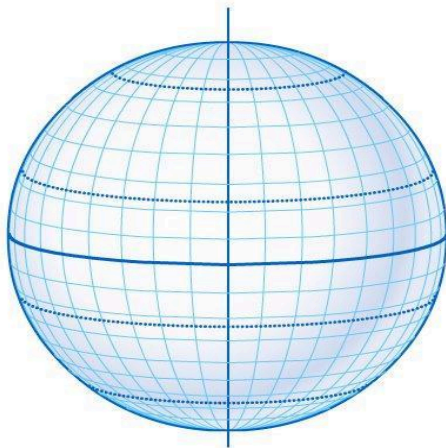
Instruccions:

-Realització de les activitats: es poden contestar en els mateixos fulls. Per completar aquest dossier es pot consultar el Moodle de l'aula virtual, o el llibre de text de 1er d'ESO.
El dossier es pot imprimir a Cosergeria.

1a AVALUACIÓ

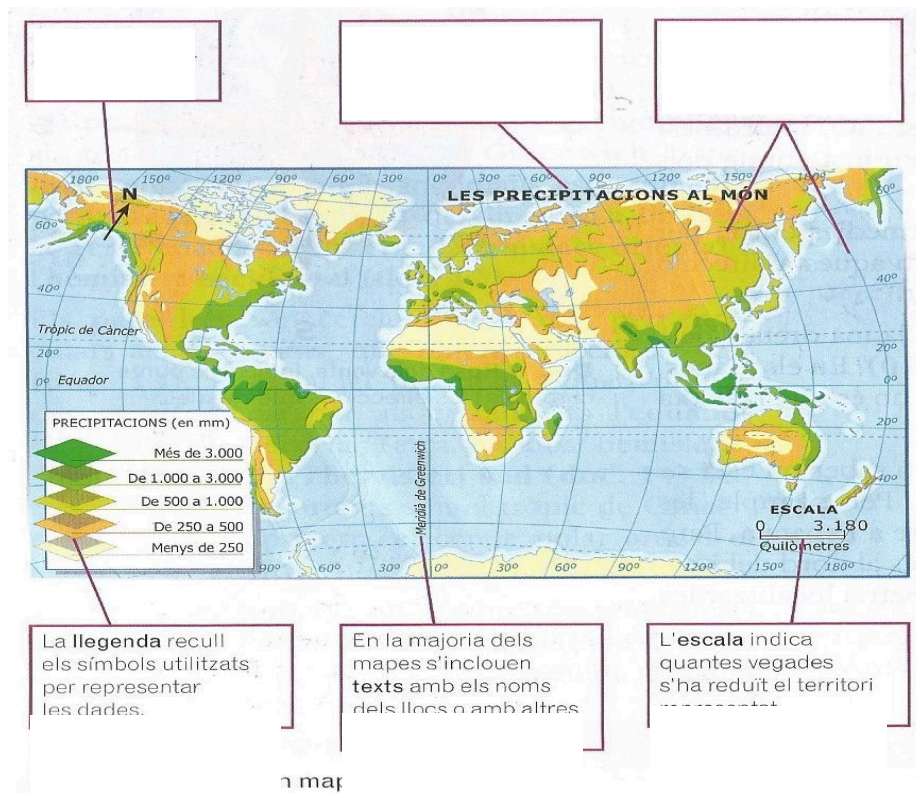
INTRODUCCIÓ A LA GEOGRAFIA

1. Situa i escriu sobre el següent dibuix el nom dels elements indicats:

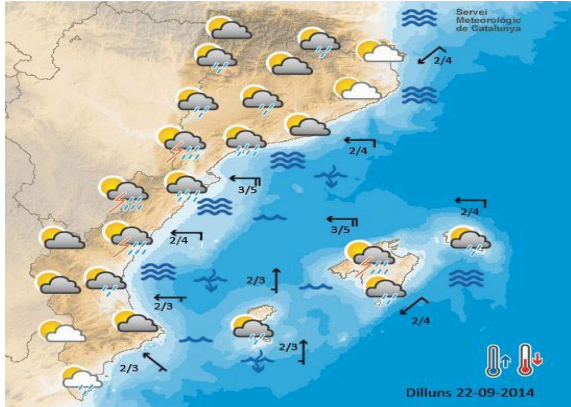


- L'Equador
- Meridià de Greenwich
- Hemisferi nord.
- Hemisferi sud.
- Hemisferi est
- Hemisferi oest
- Cercle polar àrtic
- Cercle polar antàrtic
- Tròpic de Càncer
- Tròpic de Capricorn

2. Situa en els requadres els elements més importants d'un mapa:

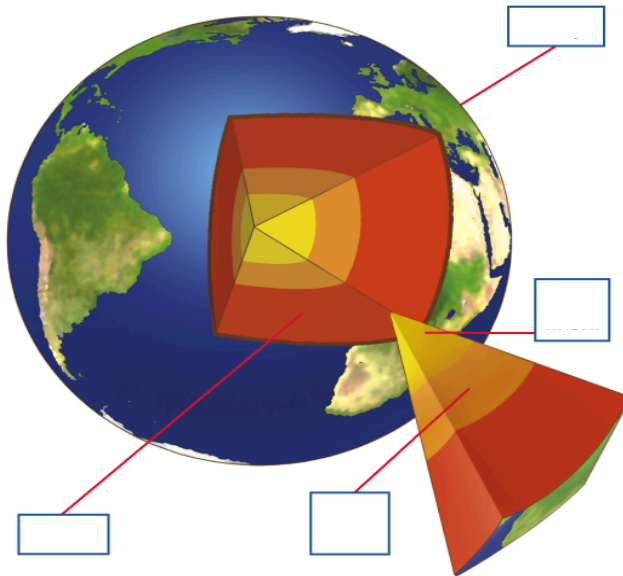


4. Digues quins tipus de mapes són les següents imatges i explica quina informació ens ofereixen i quins símbols utilitzen.



TEMA 1. EL RELLEU TERRESTRE I LES AIGÜES

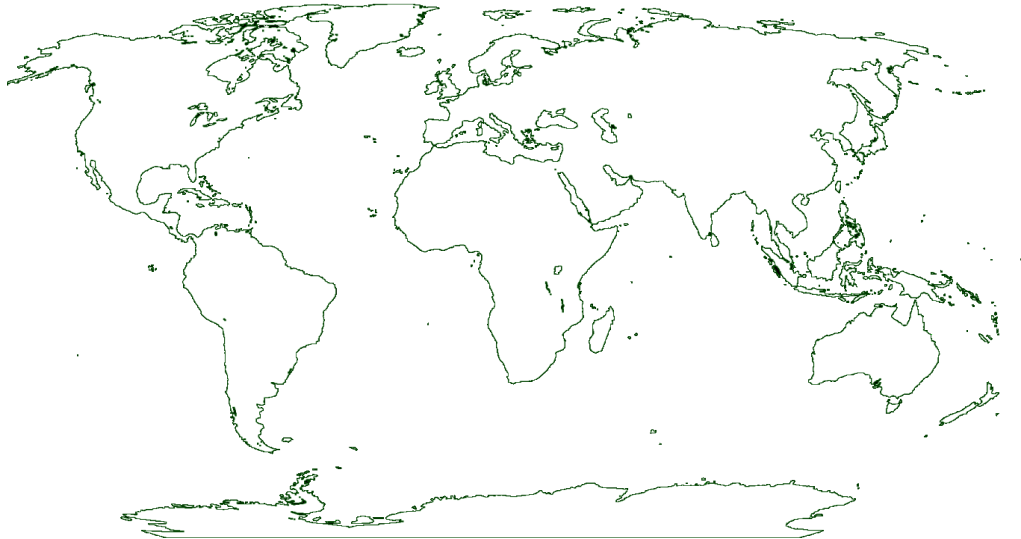
1. Situa en els requadres les diferents capes de la Terra i a continuació explica-les:



2. A partir de la següent imatge, explica la història dels continents segons la Teoria de la deriva continental:



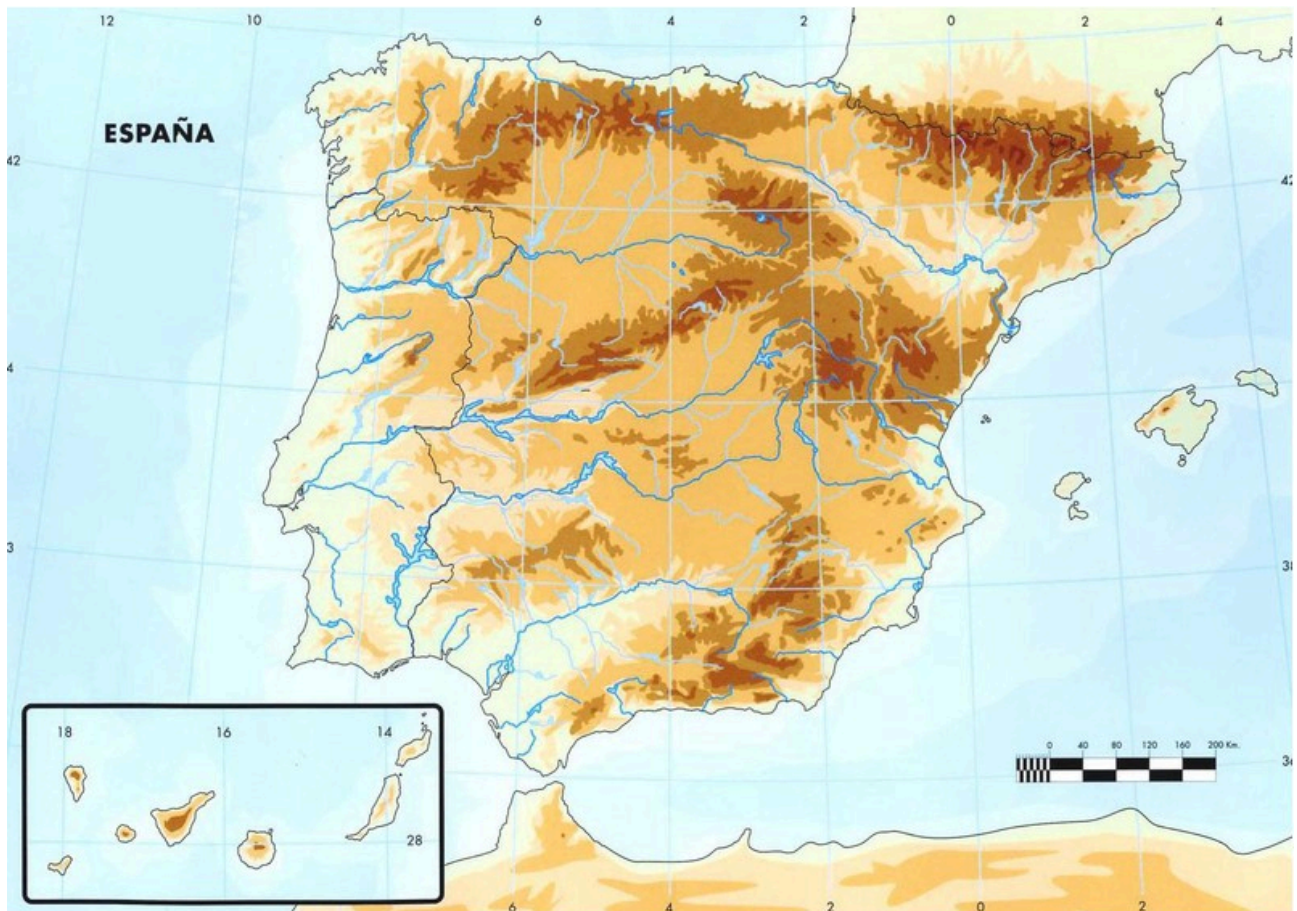
3. Situa els continents i els oceans de la Terra en el següent mapa:



4. Ubica el nombre dels següents elements del relleu al mapa:

Mars i oceans	Estrets i caps	Planes, conques i altiplans	Illes
1 Oceà Atlàntic 2 Mar Cantàbric 3 Mar Mediterrani 4	4 E. de Gibraltar 5 Punta de la Estaca de Bares 6 Cap de Finisterre 7 Cap de Sao Vicente 8 Cap de Gata 9 Cap de Palos 10 Cap de la Nau 11 Cap de Creus	12 Meseta Septentrional 13 Meseta Meridional 14 Depressió de l'Ebre 15 Depressió del 16 Guadalquivir	17 Illes Balears 18 Mallorca 19 Menorca 20 Eivissa 21 Formentera 22 I. Canàries

Rius	Serralades	Golfs i badies
23 Miño	34 Serralada Cantàbrica	51 Golf de Biscaia
24 Duero	35 Picos d'Europa	52 Golf de Cadis
25 Tajo	36 Massís Galaic	53 Golf de València
26 Guadiana	37 M. de Lleó	54 Golf de Lleó
27 Guadalquivir	38 Sistema Central	
28 Segura	39 Almanzor	
29 Xúquer	40 M. de Toledo	
30 Túrria	41 Sierra Morena	
31 Ebre	42 Serralades Bètiques	
32 Nerbion	43 Mulhacén	
33 Delta de l'Ebre	44 Serralada Ibèrica	
	45 Moncayo	
	46 S. litoral catalana	
	47 Pirineus	
	48 Aneto	
	49 Serra de Tramuntana	
	<u>50 Puig Major</u>	

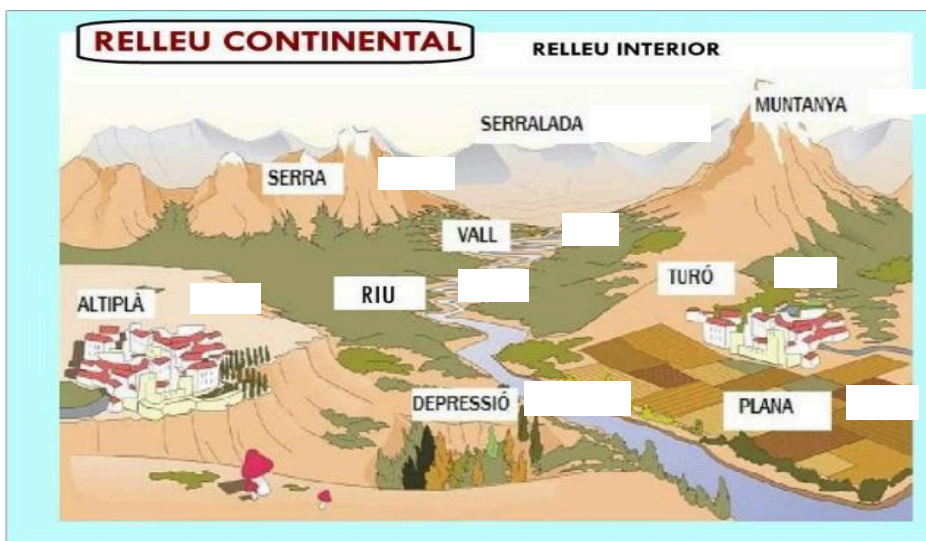


5. Quins són els agents interns de modificació del relleu? Explica'ls.

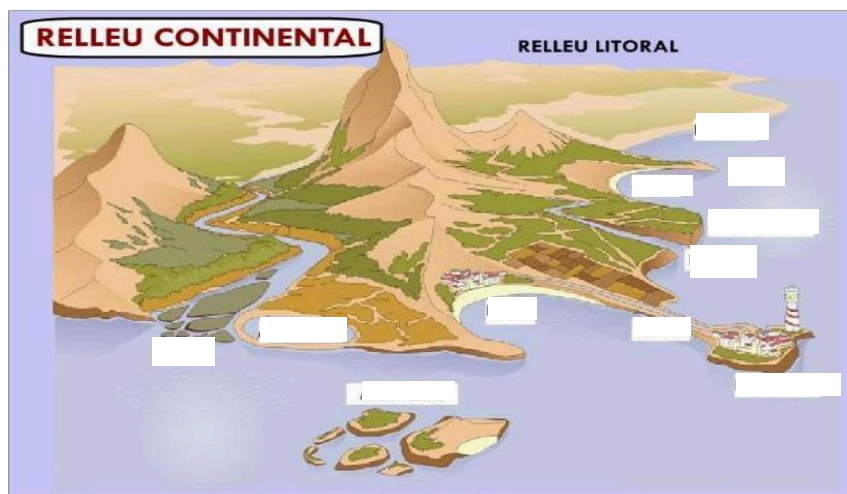
6. Dibuixa un volcà i assenyala les seves parts més importants.

7. Quins són els agents externs de modificació del relleu?

8. Col·loca dins cada requadre els diferents elements que falten del relleu continental interior:

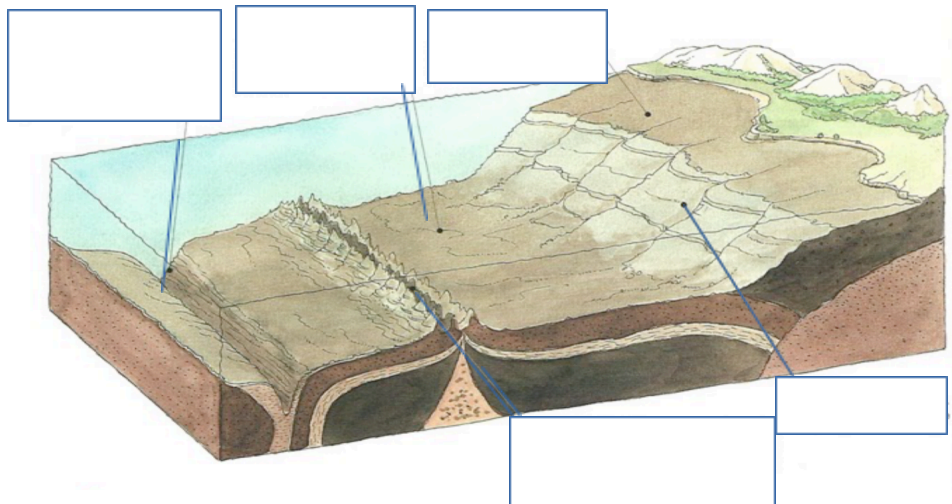


9. Col·loca dins cada requadre els diferents elements del relleu continental litoral:

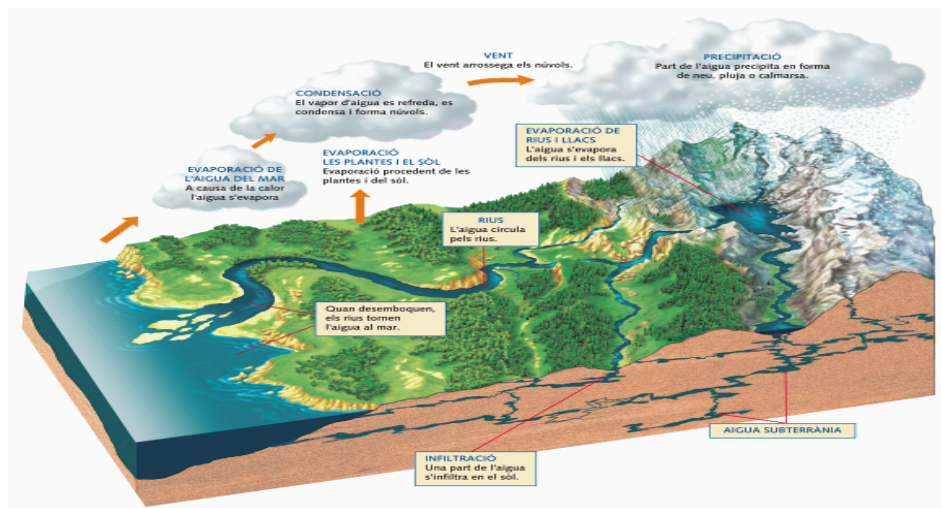


10. Col·loca dins cada requadre els diferents elements del relleu submarí:

RELLEU SUBMARÍ



11. Fes una redacció explicant el Cicle de l'aigua. Et pots ajudar del següent dibuix:



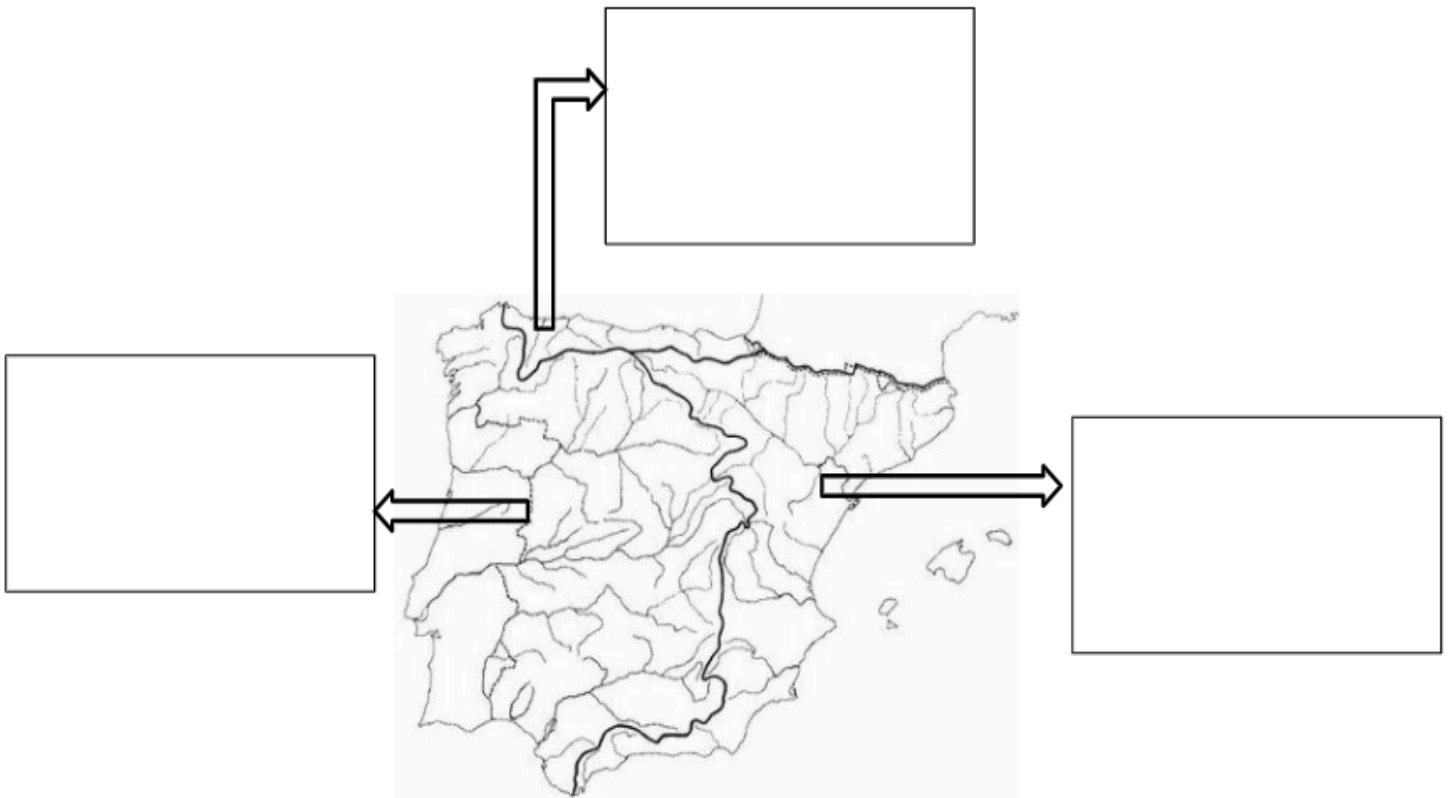
12. La hidrosfera:

- Què és la **hidrosfera**?
- Quins **tipus d'aigua** podem trobar?
- Què és el **cabal d'un riu**?
- Quines **parts té un riu** i quina **funció fa el riu a cada**.

13. Relaciona amb fletxes els elements d'aquestes tres columnes:

Curs alt	<i>Transport</i>	<i>Cascada</i>
Curs mitjà	<i>Sedimentació</i>	<i>Delta</i>
Curs baix	<i>Erosió</i>	<i>Meandre</i>

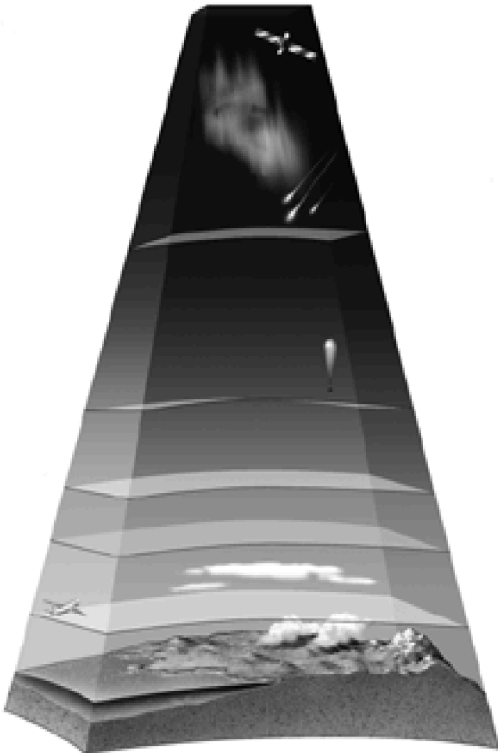
14 . Indica el nom de cada vessant i les característiques dels rius a cada un d'ells



2a AVALUACIÓ

TEMPS, CLIMA, CLIMES I PAISATGES I LES AIGÜES

1. Indica el nom de les diferents capes de l'atmosfera en els requadres de la dreta i, a continuació, localitza-les en el dibuix.



2. Explica com influeixen la latitud, l'altitud i la distància respecte al mar en la temperatura:

– Altitud:

.....
.....

– Latitud:

.....
.....

– Distància respecte al mar:

.....

3. Explica el procés de formació dels fenòmens següent:

- Els níguls:.....

- Les precipitacions:.....

- El calabruix:
.....

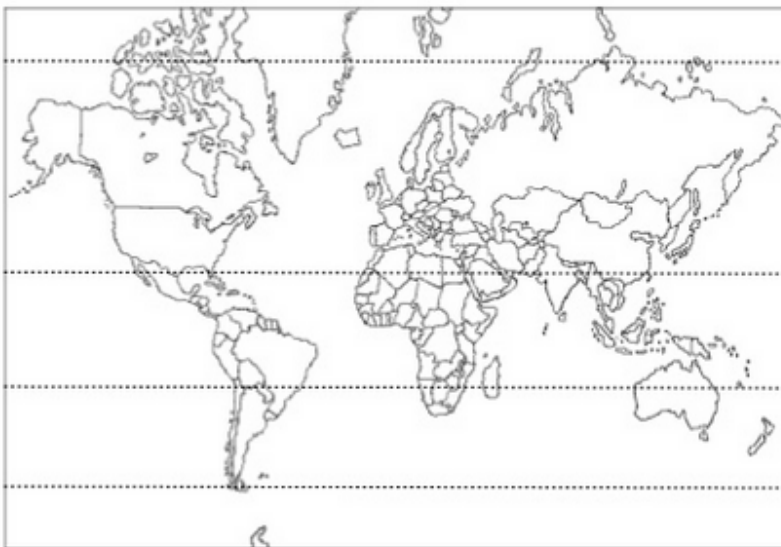
4. Completa les frases amb les paraules següents:

temperatura de l'aire - clars - temps sec - baixes pressions - anticiclons
altes pressions - precipitacions - altitud - pressió atmosfèrica - depressió o borrasca

- La és el pes que exerceix l'aire sobre la superfície terrestre.
- La pressió atmosfèrica depèn de la i de la
- L'aire càlid pesa poc i és poc dens, per això tendeix a ascendir i dóna lloc a una àrea de que se sol denominar
- L'aire fred és més dens i pesat que el càlid, pel que tendeix a descendir i origina àrees de , que també es denominen
- Les borrasques acostumen a ocasionar.....
- Els anticiclons solen ocasionar cels i

5. Indica on es localitzen les següents zones climàtiques de la Terra i pinta les zones al mapa adjunt:

Zona de climes freds	
Zona de climes càlids	
Zona de climes temperats	



6. Completa les següents frases sobre el paisatge equatorial:

- El paisatge equatorial es localitza en
- El clima equatorial es caracteritza per unes temperatures
i unes precipitacions
- Els rius equatorials són a causa de
- Els pobles indígenes viuen de
- A la selva hi ha segons la necessitat de llum de les plantes

7. Completa la següent taula sobre el paisatge tropical:

PAISATGE TROPICAL			
Precipitacions	Temperatures	Vegetació	Fauna

8. Respon les següents preguntes sobre el paisatge oceànic:

– En quines parts de la Terra es localitza?

.....
.....
.....

– Com és el seu clima?

.....
.....
.....

– Quines són les seves formacions vegetals més importants?

.....
.....
.....

9. Completa el següent esquema amb les principals característiques del paisatge mediterrani:

PAISATGE MEDITERRANI		
Localització	Clima	Vegetació

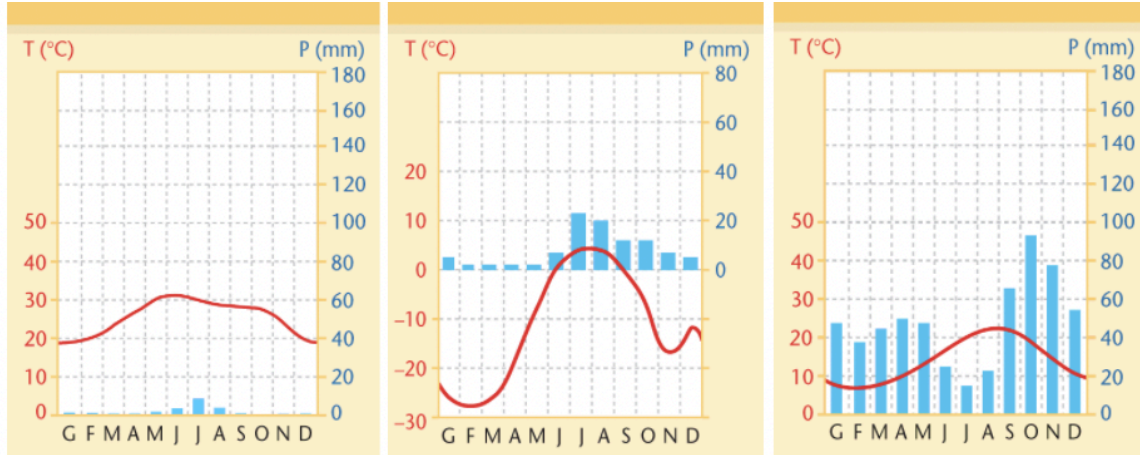
10. Relaciona cada un dels climes d'Espanya amb la situació geogràfica corresponent:

Clima atlàntic	Illes Canàries
Clima mediterrani	Zona central peninsular
Clima continental	Nord de la Península
Clima subtropical	Costa est i sud, Illes Balears

11. Subratlla les característiques de les temperatures i les pluges en el clima mediterrani:

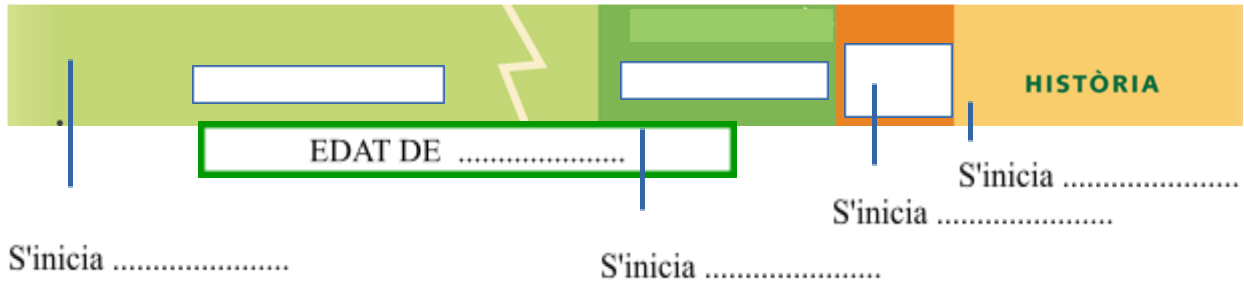
hiverns molt freds – precipitacions escasses – estius suaus – pluges abundants – estius bastant calorosos – hiverns suaus – estius extremadament calorosos

12. Observa els següents climogrames i escriu a sota a **quin clima** pertanyen cada un.

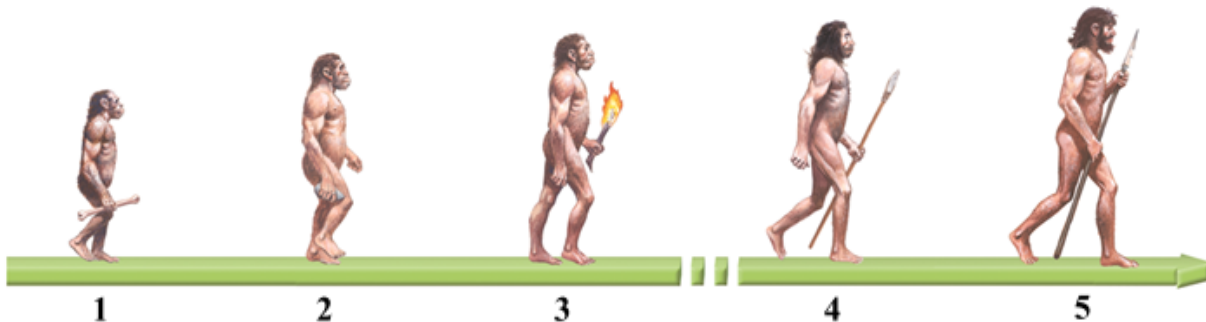


LA PREHISTÒRIA

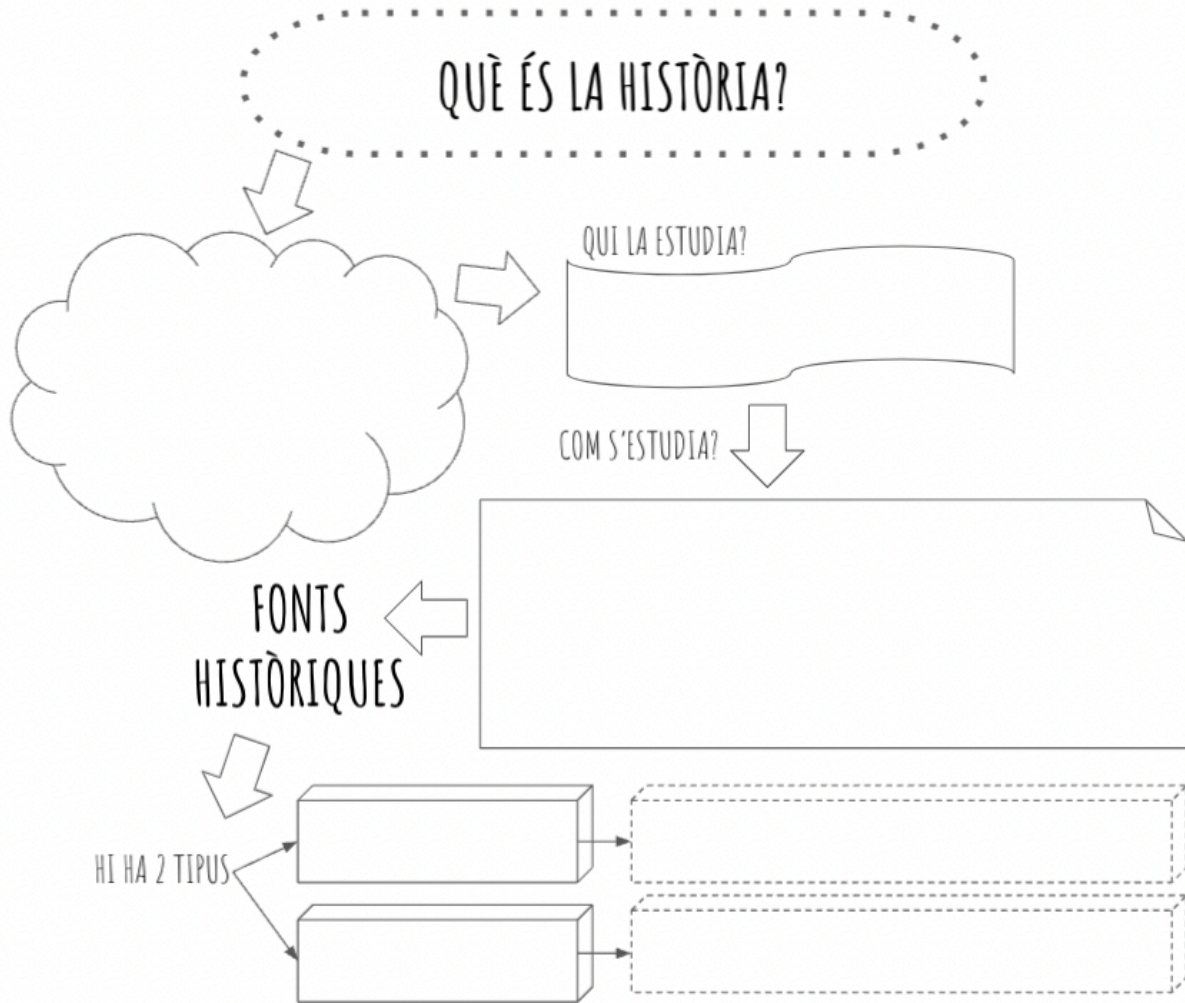
1. Completa aquest eix cronològic amb les etapes de la prehistòria. A més, escriu a l'eix els fets que marquen l'inici de cada etapa:



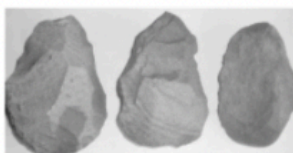
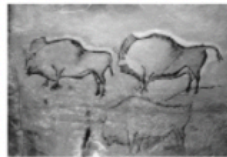
2. Escriu el nom de cada una de les espècies de la evolució humana i digues dues característiques de cada un (en el dibuix no hi ha l'home antecessor).



3. completa la fitxa:



QUIN TIPUS DE FONTS REPRESENTEN AQUESTES IMATGES?



4. Què és el procés d'hominització? Explica quins varen ser els canvis físics que afectaren els homínids en la seva evolució.

5. Contesta:

a) Què vol dir que els humans eren depredadors? En quina etapa ho podem situar?

b) Què vol dir que els humans eren productors? En quina etapa ho podem situar?

6. Explica com era la vida en el Paleolític: com i on vivien, com aconseguien queviures, quines eines utilitzaven... (te pots ajudar de les imatges que hi ha a la presentació).

7 Explica com era la vida en el Neolític: com i on vivien, com aconseguien queviures, quines eines utilitzaven... (te pots ajudar de les imatges que hi ha a la presentació).

8. Els tres grans invents de l'Edat dels Metalls: explica per què va ser tan important la seva aparició.



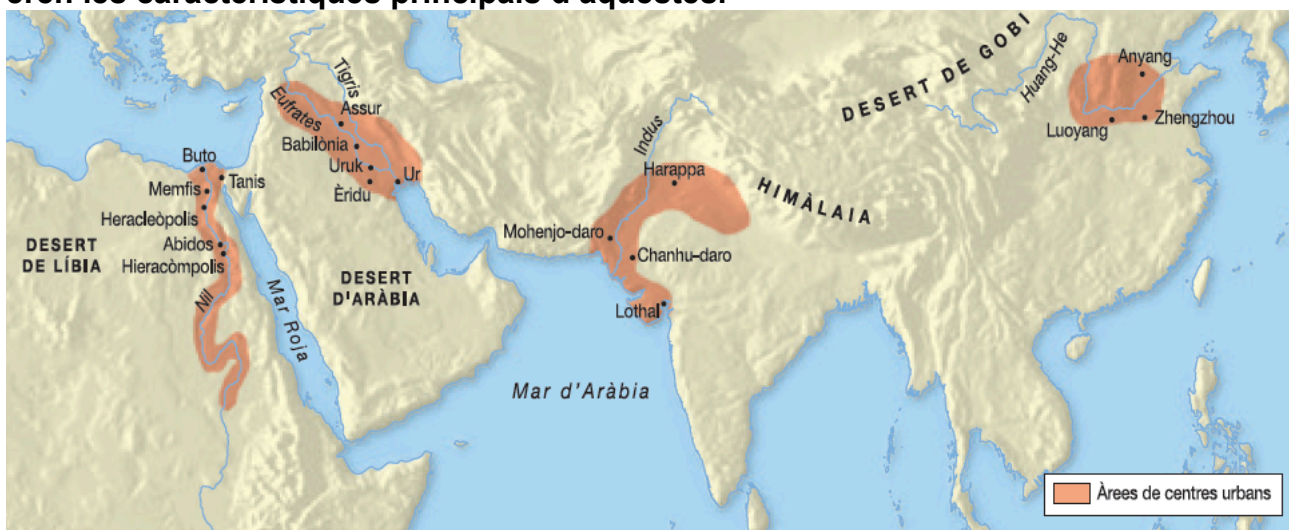
**9. El Megalitisme: què eren i per a que servien els megàlits?
Identifica les següents obres d'art:**



3a AVALUACIÓ

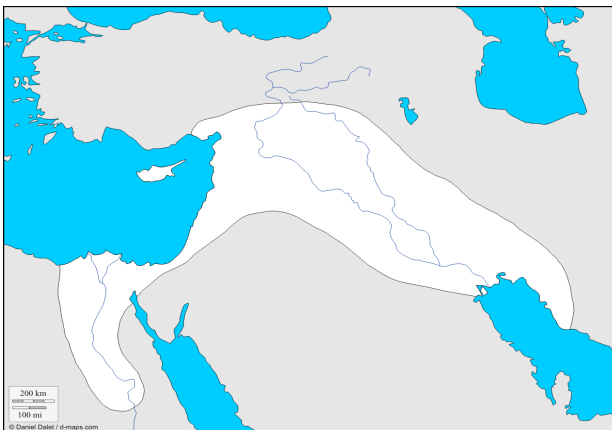
LES PRIMERES CIVILITZACIONS. MESOPOTÀMIA I EGIPT

1. Situa en el mapa el nom de les 4 primeres grans civilitzacions, i digues quines eren les característiques principals d'aquestes.



2. Explica com va aparèixer l'escriptura a Mesopotàmia. Com es deia els sistema d'escriptura mesopotàmic? Quins altres sistemes d'escriptura varen sorgir a l'antiguitat?


3. Les dues grans civilitzacions fluvials: Egipte i Mesopotàmia. Situa en el mapa els topònims de la llista:



Riu Nil
Riu Eúfrates
Riu Tigris
Egipte
Mesopotàmia

Mar Mediterrània
Mar roig
Golf Pèrsic
Península d'Anatòlia
Península d'Aràbia

4. Explica què era un ziggurat i on estava situat. Assenyala en el dibuix les diferents parts




5. Explica com estava dividida la societat mesopotàmica.



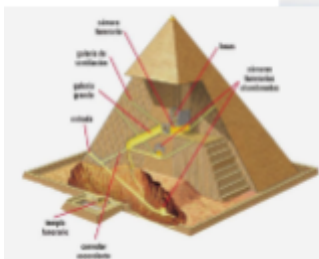
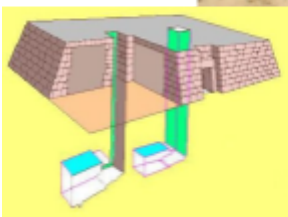
6. Explica les següents imatges i després respon les preguntes.

- Per què el riu Nil va ser tan important a Egipte?
- Quines dues grans regions hi havia a l'Antic Egipte?
- Quins dos tipus de terres es distingien a l'Antic Egipte?
- Explica cada un dels períodes que apareixen a l'esquema i digues per quin motiu es produïen crescudes anuals al riu Nil.
- Quin instrument permetia predir les crescudes del riu Nil?



7. Explica els aspectes més importants de la religió mesopotàmica i egípcia.
Característiques comunes i principals diferències.

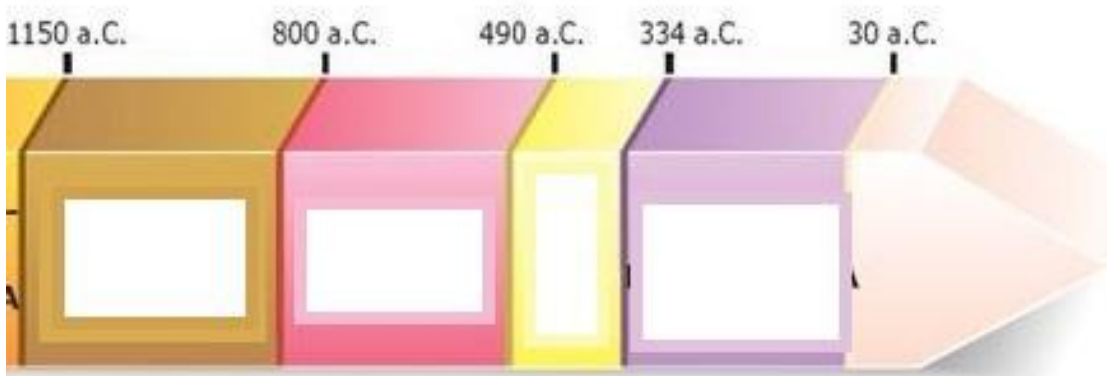
8. Identifica cadascuna d'aquestes tombes de l'antic Egipte.





LA CIVILITZACIÓ GREGA

1. Emplena el següent eix cronològic amb els quatre períodes de la història de la Grècia antiga (època arcaica, època helenística, època classica, època obscura).



-Digues a quin període pertanyen els següents fets o personatges i explica'ls:

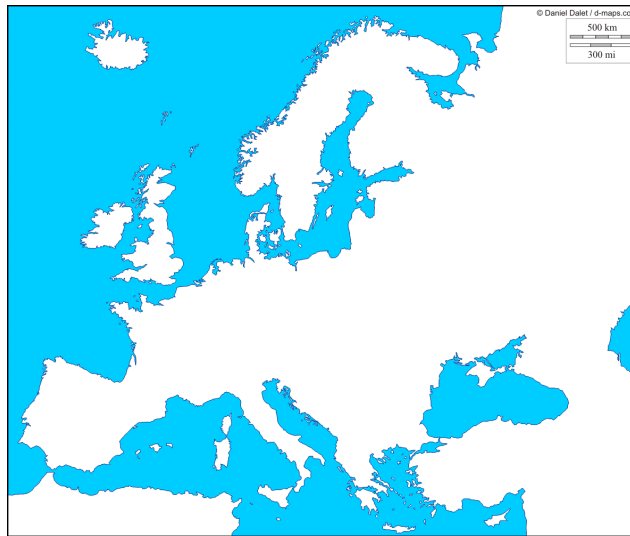
a) Guerres mèdiques:

b) Guerra del Peloponès:

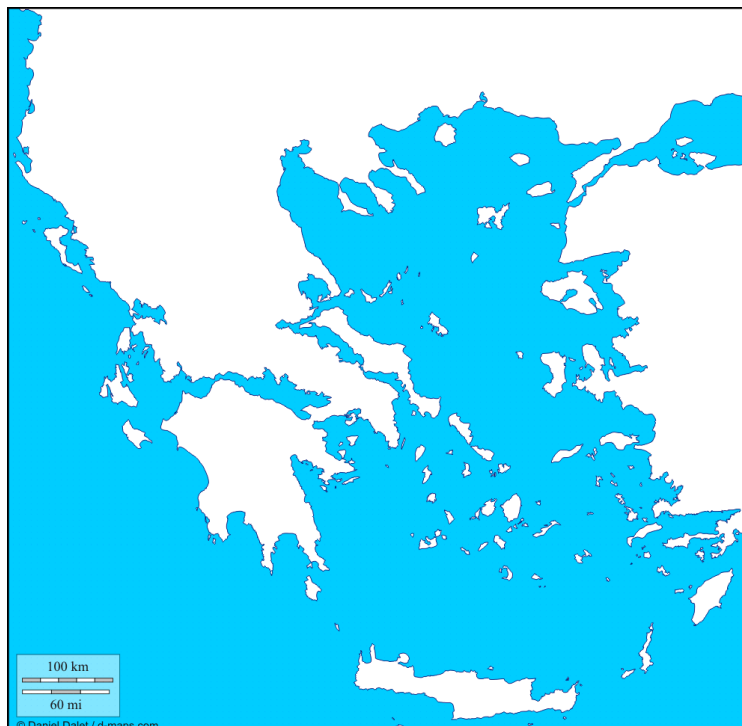
c) Colonització grega:

d) Alexandre el Gran:

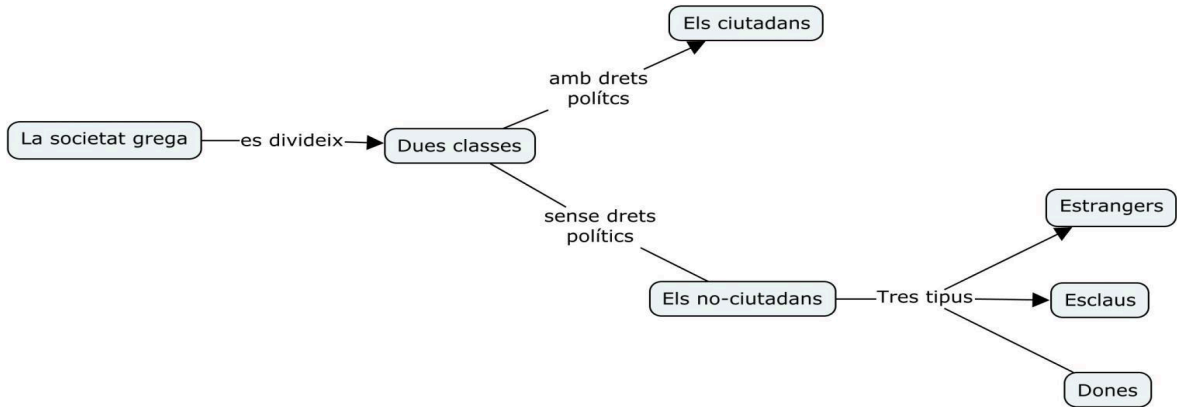
2. Situa i pinta amb color la civilització grega en el següent mapa de la mediterrània.



3. Assenyala amb colors els límits de la civilització grega i situa en el mapa el nom de les polis més importants.




4. Fes una redacció desenvolupant el següent esquema sobre la composició de la societat grega.







5. Quina era la diferència entre un govern democràtic i un govern aristocràtic?

6. Explica les parts d'una ciutat grega.



8 La religió grega. Com era la religió dels grecs i quins eren els seus principals déus? Quin comportament tenien els déus?

9 Completa la graella:

ARQUITECTURA	
És...	
Per construir feien servir...	
Els edificis més importants eren...	
Ordres arquitectònics	
	
	
Com es diuen les columnes amb forma de dona?	

10. Situa a la següent imatge les diferents parts d'un temple.

