


LÀMINA 4. Línies, rectes, semirectes i segments.

Nom i llinatges	Grup	Data	nota
-----------------	------	------	------

1. Defineix i dibuixa.

	Definició	Dibuix
Línia		
Recta		
Semirecta		
Segment		



2a. Mesura'ls:

Segment a	
Segment b	
Segment c	

2b. Copia el segment a i suma-li gràficament els altres 2.

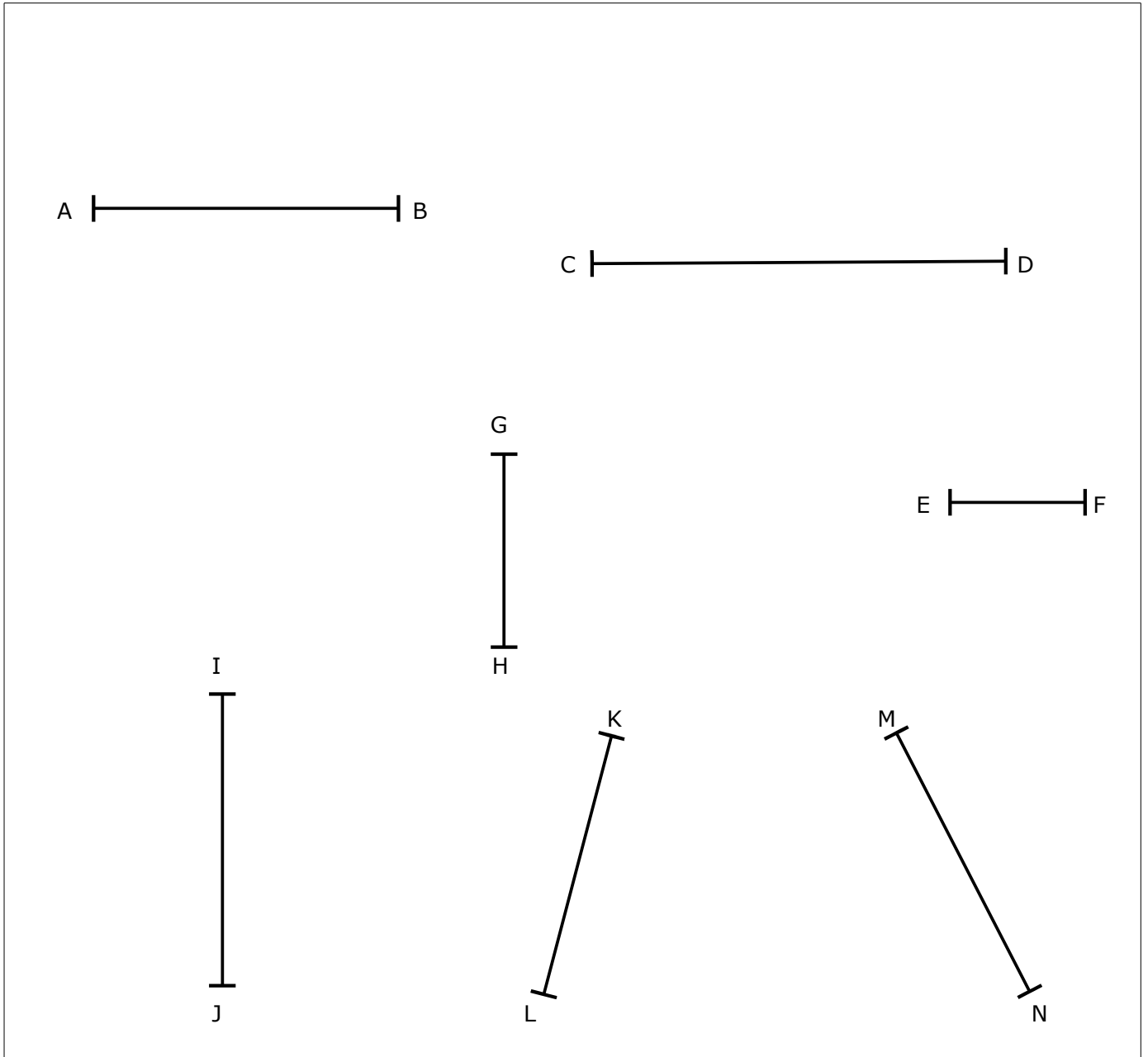
2c. Copia el segment a i resta-li gràficament el segment c.

3. Operacions amb segments. Mediatriu. Paral·leles i perpendiculars a un segment.

3a. Defineix mediatriu:


Una mediatriu és

3b. Dibuixa la mediatriu dels següents segments:



3c. Dibuixa:

Una recta s **paral·lela** a la recta r que passi pel punt P.



Una recta s **perpendicular** a la recta r que passi pel punt A exterior.

