

COM ES TRANSFORMA L'ALIMENT EN CENTÍMETRES D'ALTURA I EN GRAMS DE PES?

SITUACIÓ D'APRENENTATGE 2

CONTINGUTS

PRIMER TRIMESTRE

Situació d'aprenentatge 1 ~~sobre l'organització de la matèria viva~~

Situació d'aprenentatge 2 **sobre la funció de nutrició**

Situació d'aprenentatge 3 sobre l'alimentació responsable

SEGON TRIMESTRE

Situació d'aprenentatge 4 sobre salut i malalties

Situació d'aprenentatge 5 sobre drogues i drogodependència (\approx la funció de relació)

Situació d'aprenentatge 6 sobre la funció de reproducció

CONTINGUTS

TERCER TRIMESTRE

Situació d'aprenentatge 7 sobre sexe i sexualitat

Situació d'aprenentatge 8 sobre geodinàmica

Situació d'aprenentatge 9 sobre ecosistemes



ESTRUCTURA DE LA SITUACIÓ D'APRENTATGE

Situació d'aprenentatge 2

Com es transforma l'aliment en centímetres d'altura i en grams de pes?

- Realització del quadern.
- Elaboració del producte final 2 (Presentació d'un pòster científic).
- Confecció de l'informe de la pràctica de laboratori 2 (Simulació de l'acció de la bilis).
- Realització de la prova de síntesi 2 vinculada als sabers 8, 9, 10, 11, 12, 13 i 14.

SITUACIÓ D'APRENENTATGE 1
COM ES TRANSFORMA L'ALIMENT
EN CENTÍMETRES D'ALTURA I EN GRAMS DE PES?



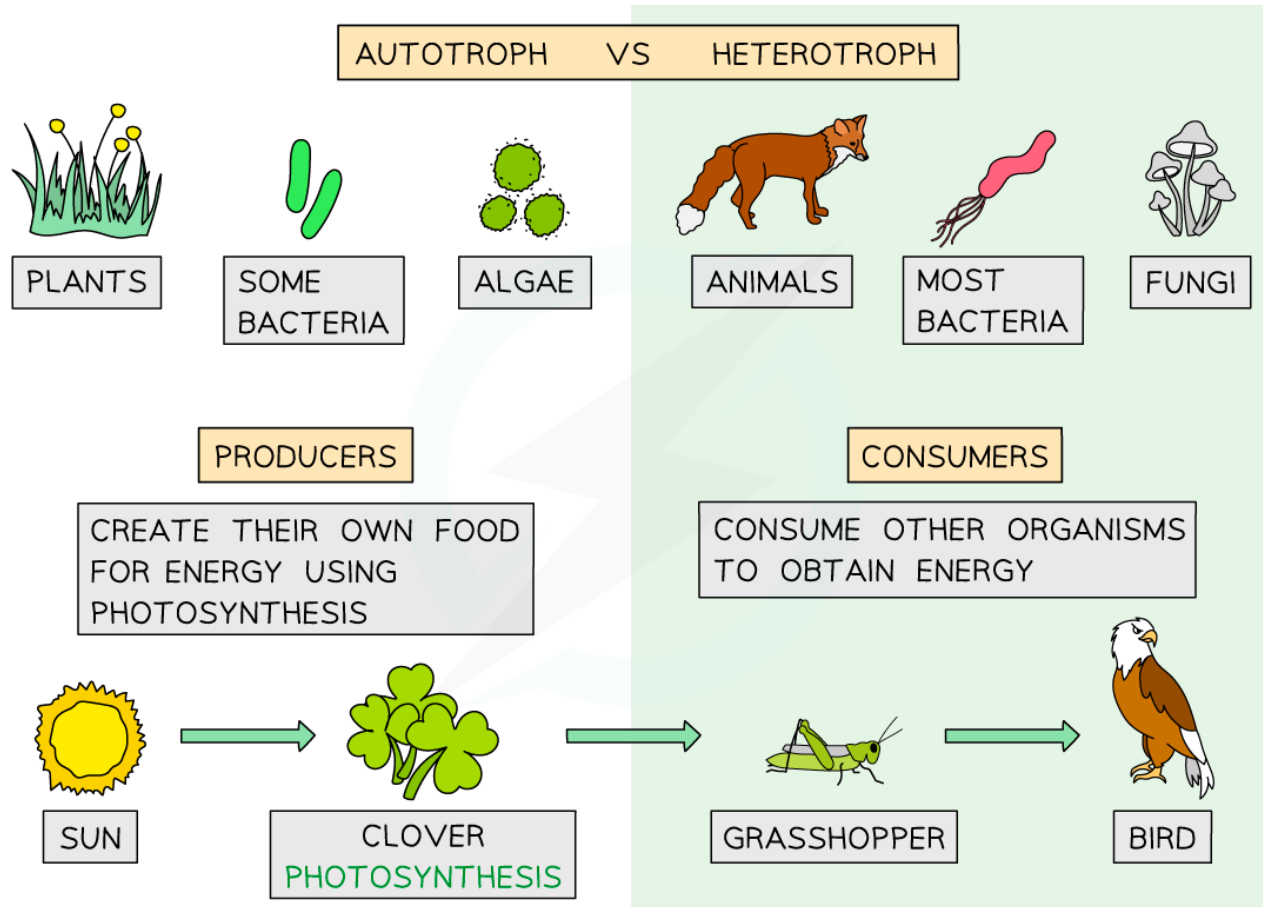
SITUACIÓ D'APRENENTATGE 1

COM ES TRANSFORMA L'ALIMENT EN CENTÍMETRES D'ALTURA I EN GRAMS DE PES?



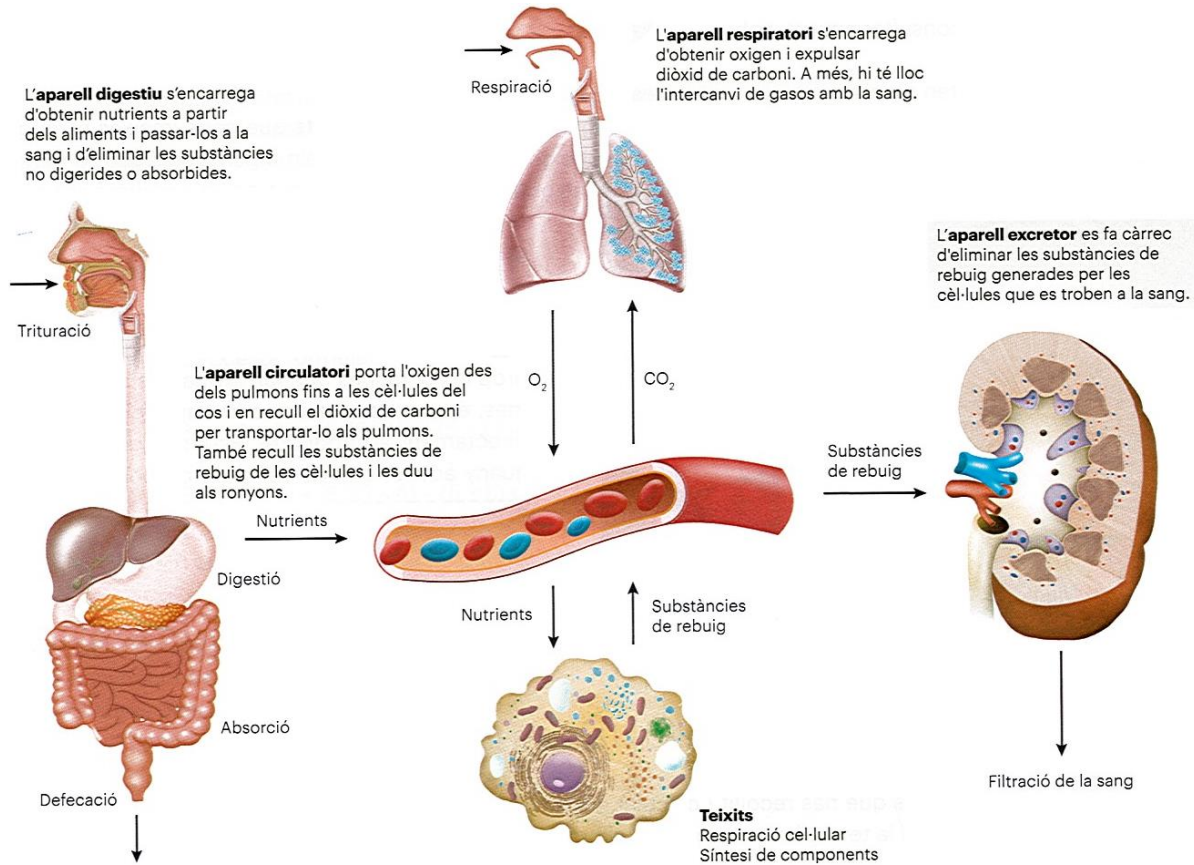
SITUACIÓ D'APRENENTATGE 1

COM ES TRANSFORMA L'ALIMENT EN CENTÍMETRES D'ALTURA I EN GRAMS DE PES?



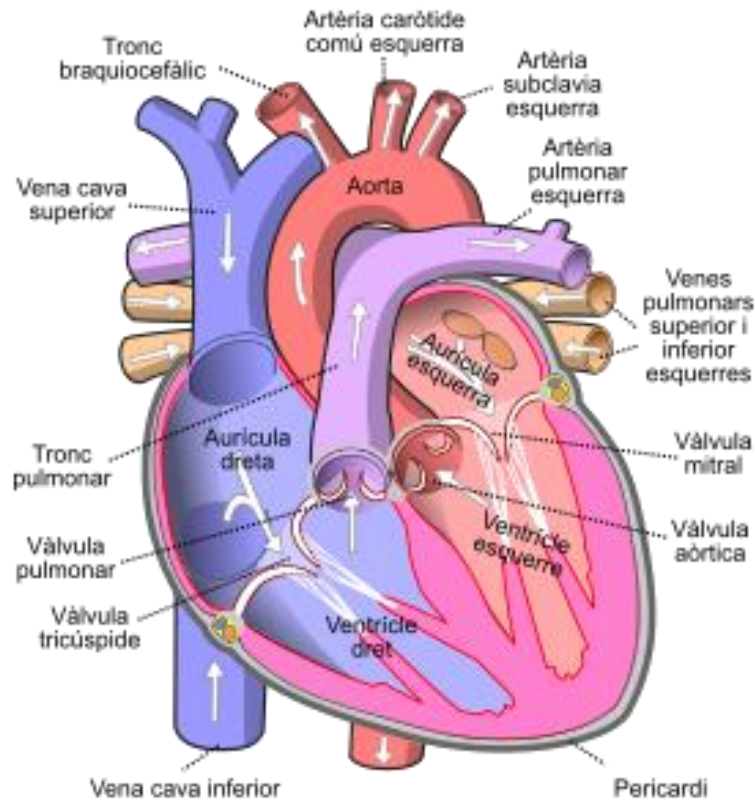
SITUACIÓ D'APRENENTATGE 1

COM ES TRANSFORMA L'ALIMENT EN CENTÍMETRES D'ALTURA I EN GRAMS DE PES?



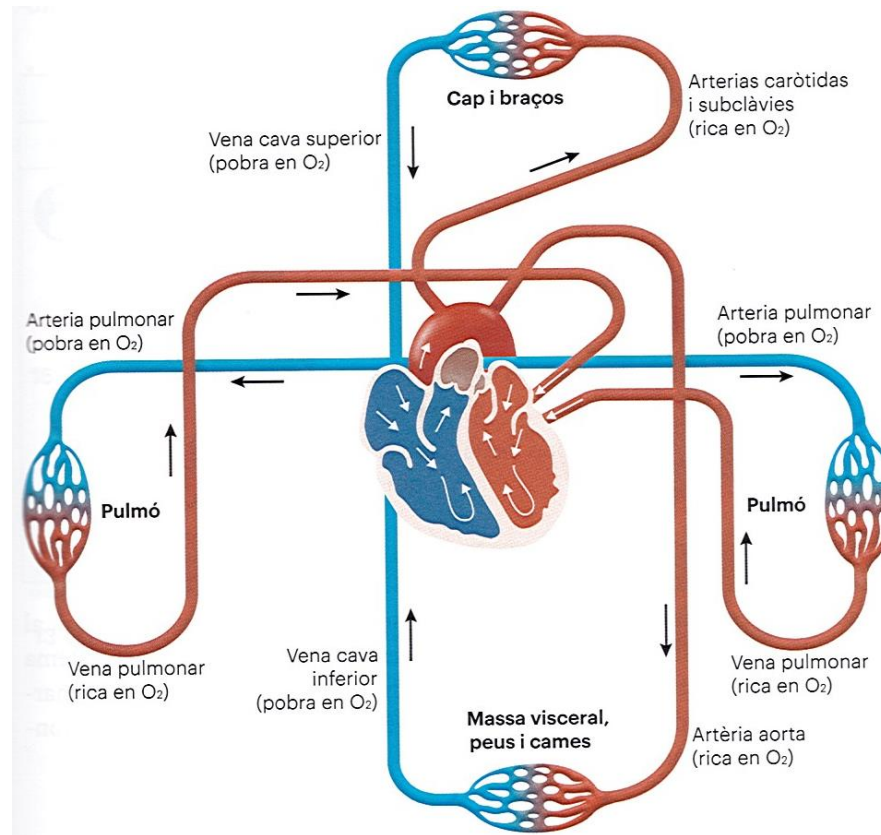
SITUACIÓ D'APRENENTATGE 1

COM ES TRANSFORMA L'ALIMENT EN CENTÍMETRES D'ALTURA I EN GRAMS DE PES?



SITUACIÓ D'APRENENTATGE 1

COM ES TRANSFORMA L'ALIMENT EN CENTÍMETRES D'ALTURA I EN GRAMS DE PES?



BIOLOGIA I GEOLOGIA

3^R ESO