



**Departament de Geografia i Història
Activitats de recuperació pendents 3R ESO**

CURS 23/24

Alumne:.....

Curs:.....

Instruccions:

-Realització de les activitats: es poden contestar en els mateixos fulls. En el cas que no hi càpiguen, o que s'hagin d'inserir imatges, es pot utilitzar la part de darrera el full si s'ha imprès per una cara, o inserir un full a dins a la pàgina que toqui.

1a AVALUACIÓ

SECTORS ECONÒMICS

1. Digues a quin **sector econòmic** pertanyen els següents oficis:

Metge, Granger, Peixater, Pescador, Conserver, Administratiu, Obrer de la construcció, Llaurador, Escriptor, Treballador de la Ford, Collidor, Apicultor, Fuster, Taxista, Treballador de la cooperativa:

Sector Primari	Sector Secundari	Sector Terciari

2. Llegeix i contesta les següents preguntes:

9. **La globalització.** Respon a les següents preguntes:

- Quin tipus de document és?
- Quin és el tema?
- Com defineix el text a la globalització?
- Quina conseqüència té la globalització per a la societat segons el text?
- Quin exemple de la globalització posa?
- Què ho ha fet possible?
- Explica què és la globalització, les seves causes i les seves característiques.

La societat globalitzada

La pròxima vegada que vagi a la botiga o al supermercat més proper faci un cop d'ull a la gran varietat de productes que s'hi ofereixen. El fet que tots estiguin disponibles per a qui se'ls pugui permetre és una cosa que els occidentals hem arribat a donar per fet. [...] Aquests productes han estat fets amb ingredients o peces d'un centenar de països, s'han de transportar d'un extrem a l'altre del món i són necessaris fluxos d'informació constants per a coordinar els milions de transaccions diàries que comporten.

[...] En molts sentits, el món s'ha convertit en un sistema social únic, a conseqüència dels creixents vincles d'interdependència que ara ens influeixen pràcticament a tots. [...] Les relacions socials, polítiques i econòmiques que traspassen les fronteres dels països condicionen de manera decisiva el destí de tots els seus habitants. El terme general que anomena aquesta creixent interdependència és GLOBALITZACIÓ.

Cap societat del món viu ja completament separada de les altres i, fins i tot en els països més rics, tots depenen dels productes que es porten a l'exterior.



Traduït de: Giddens, A. Sociologia
Alianza Editorial (2001)

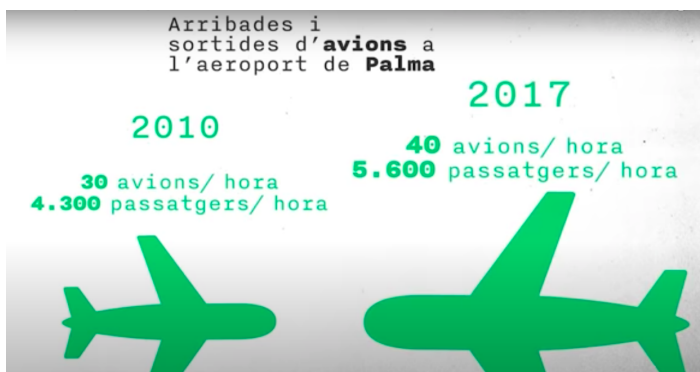

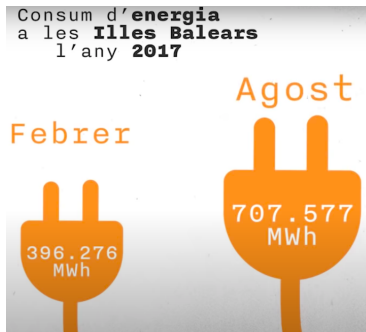
3. Defineix:


- a. agricultura intensiva
- b. agricultura extensiva
- c. agricultura de secà
- d. agricultura de regadiu
- e. ramaderia intensiva
- f. ramaderia extensiva
- g. ramaderia establada
- h. importació
- i. exportació
- j. majorista
- k. minorista

4. Explica que va ser i que va provocar la revolució industrial.

ACTIVITAT TURÍSTICA

1. Relaciona les següents imatges amb els impactes mediambientals que se'n deriven.
Cerca exemples a la premsa per incloure en el dossier de feina per parelles per entregar.





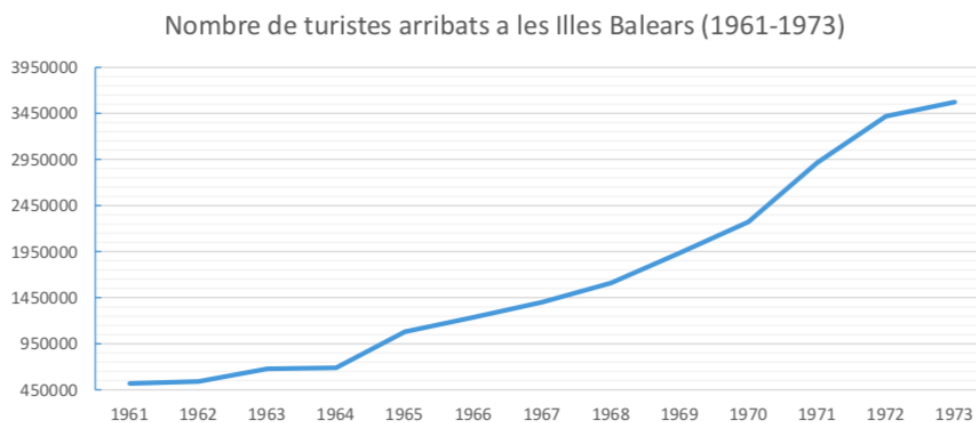
Fondejos il·legals a la badia de Pollença

2. En el mapa de Mallorca, situa el nom dels municipis que tenen més places de lloguer turístic que places de turisme hoteler i pinta'ls de groc.

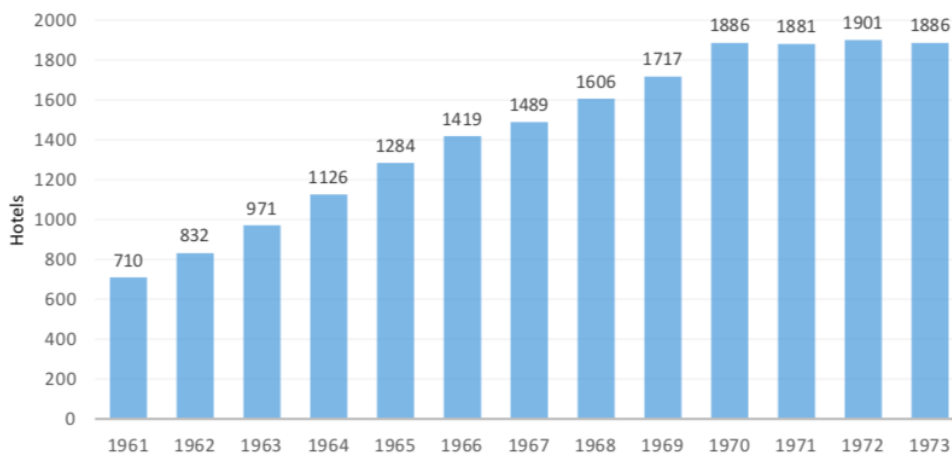


3. Cerca exemples a la premsa on es reflecteixin postures a favor i en contra del lloguer turístic per incloure en el dossier de feina per parelles per entregar.

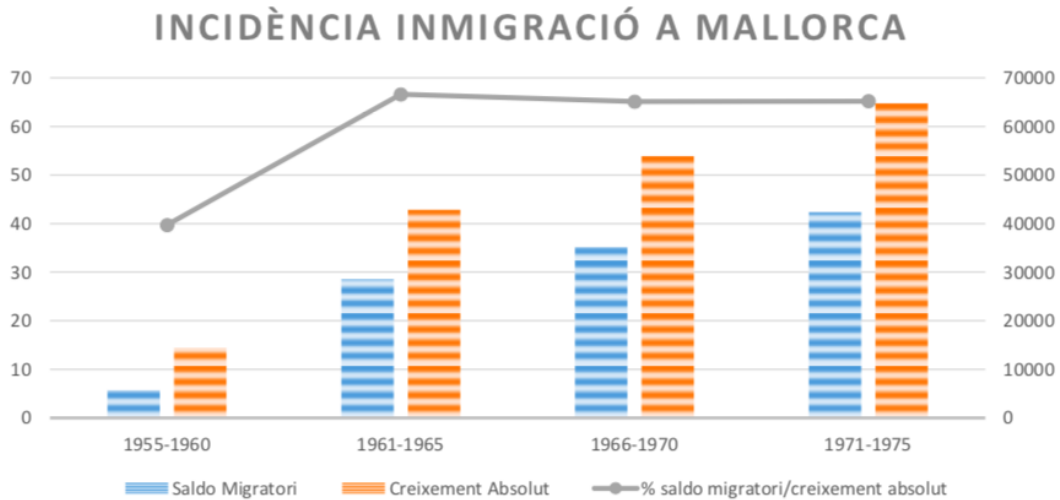
4. Observa les següents gràfiques i fes-ne una lectura explicativa de cada una:
 - a-Tema que aborda la gràfica
 - b-Espai temporal representat i variables representades
 - c-Lectura explicativa de l'evolució de la variable o variables i contextualització dins el tema que estam treballant.



Gràfica 4: Nombre de turistes arribats Illes Balears(1961-1973). Elaboració pròpia a partir de dades de (SALVÀ)



Gràfica 5:: Nombre de nous hotels a les Illes Balears (1961-1973). Elaboració pròpia a partir de dades de (SALVÀ)



Gràfica 1 Elaboració pròpia a partir de l'obra d'ARTIGUES

5. Es poden relacionar les tres gràfiques per donar una explicació conjunta de les tres?
Fes una petita redacció on es mostri aquesta relació entre elles.

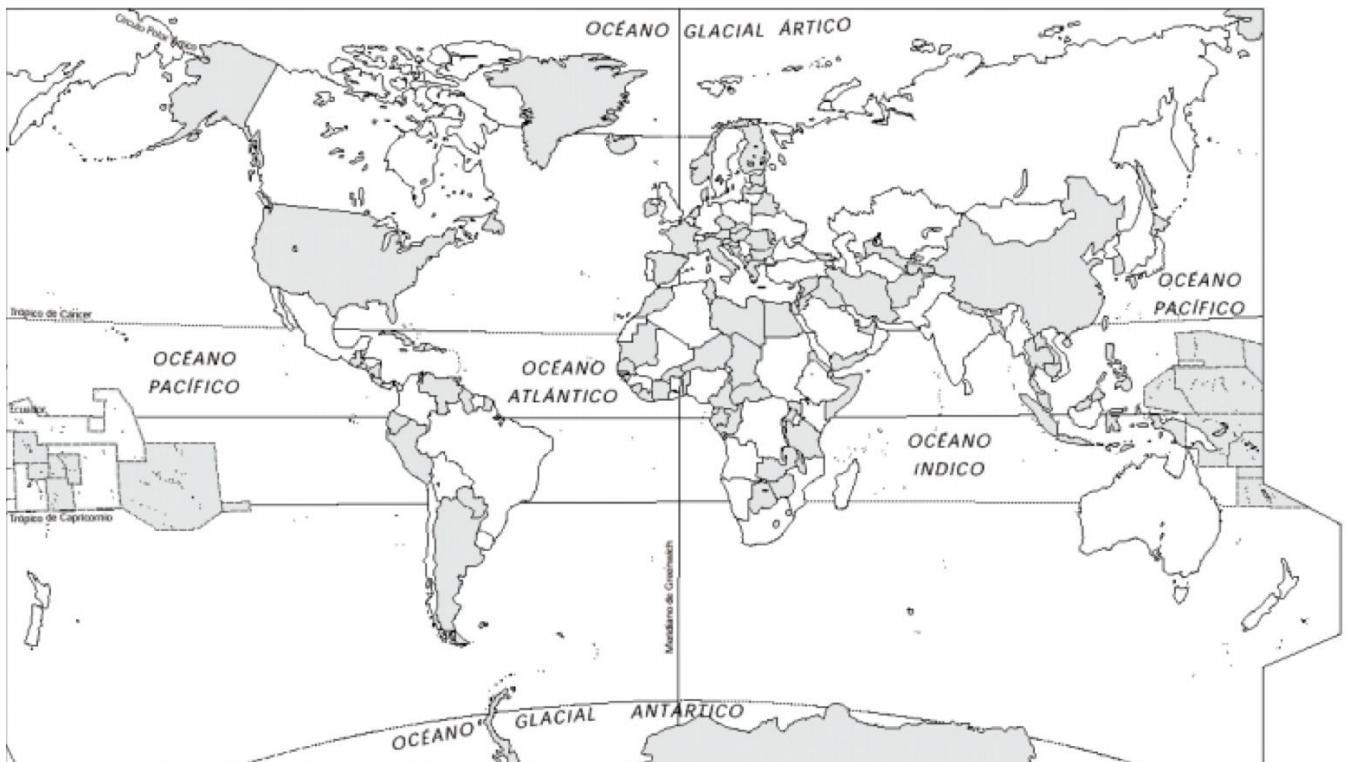
2a AVALUACIÓ

1. Defineix quatre dels cinc conceptes següents:
 - Emigrant:
 - Migració interior:
 - Immigrant irregular:
 - Saldo migratori:
 - Immigrant

2. Dels següents supòsits, assenyala quins casos es refereixen a refugiats i quins a immigrants: 1 punt

La jove va deixar el seu país per seguir el seu somni de ser ballarina i va aconseguir una beca per estudiar en una escola de dansa a Europa.	
Després de fugir de la guerra al seu país, la família va arribar a Europa buscant una vida millor i va establir-se en un nou lloc on ara tenen una petita botiga de queviures.	
Un home va haver de deixar el seu país per la persecució que patia a causa de la seva orientació sexual, i ara busca una nova llar.	
Una família va traslladar-se a Europa des de l'estranger per aprofitar les oportunitats laborals i educatives que no hi havia al seu país d'origen.	

3. Situa en el següent mapa les principals rutes migratòries a nivell mundial, numera-les i, a continuació, explica-les. 2 punts



4. Aspectes positius/negatius de la migració en els llocs d'origen. Tria un aspecte positiu i un altre negatiu i explica'ls.

5. Diques quines són les principals conseqüències de les migracions.

3a AVALUACIÓ

ORGANITZACIÓ POLÍTICA I TERRITORIAL D'ESPANYA

1. Llegeix el text i respon:

- a) Resumeix, **amb les teves paraules**, cadascun dels articles.
- b) Quina forma política d'estat té Espanya? Quines funcions té el rei?
- c) Quina és la principal llei de Espanya?

LA CONSTITUCIÓ ESPANYOLA (1978)

Art. 1.- Espanya es constitueix en un Estat social i democràtic de dret que propugna com a valors superiors del seu ordenament jurídic la llibertat, la justícia, la igualtat i el pluralisme polític (...). La forma política de l'Estat espanyol és la monarquia parlamentària.

Art. 2.- La Constitució es fonamenta en la indissoluble unitat de la Nació espanyols (...) i reconeix i garanteix el dret a l'autonomia de les nacionalitats i regions que la integren i la solidaritat entre elles.

Art. 14.- Els espanyols són iguals davant la llei, i no pot prevaler cap discriminació per raó de naixement, raça, sexe, religió, opinió o qualsevol altra condició o circumstància personal o social.

Art. 139.- Tots els espanyols tenen els mateixos drets i obligacions en qualsevol part del territori de l'Estat.

2. Per què són importants els partits polítics en un sistema de democràcia representativa? Digues el nom dels partits polítics que integren l'ajuntament de Santa Margalida.

3. Respon a les següents preguntes:

a) L'Estat espanyol actual, és centralitzat o descentralitzat? Per què?

b) Què és una província? En el cas de les Illes Balears, que formen una sola província, però són diverses illes, hi ha un govern provincial, o es va solucionar d'una altra manera?

c) Què és una comunitat autònoma? Des de quan existeixen? Per què n'hi ha tantes?

d) Quines institucions són pròpies de cada comunitat autònoma? Com s'anomena la llei més important d'una comunitat autònoma?

4. Esbrina el nom de la persona que exerceix cadascun dels següents càrrecs i a quin partit polític pertany:

- Batlia del teu poble:

- Delegació del govern a les Illes Balears:

- Presidència del Consell de Mallorca:

- Presidència de la Comunitat Autònoma de les Illes Balears:

- Presidència del Parlament de les Illes Balears:

- Presidència del govern espanyol:

- Presidència del Senat:

- Presidència del Congrés dels Diputats: M

- Cap de l'estat:

5. Les Illes Balears:

- a) Des de quan les Illes Balears és una comunitat autònoma oficialment?

- b) Quina és la seva llei bàsica? Quan es va aprovar? S'ha revisat alguna vegada?

- c) Quina i quines són les llengües pròpies de les Illes Balears? Quines són les llengües oficials?

6. Quines són les funcions bàsiques del Congrés dels Diputats?